

# آدینه‌ها با گراد

۴

پایه‌ی چهارم دبستان

- بودجه بندی محتوایی (سالانه)
- بودجه بندی هفتگی و ماهانه
- جدول ارزشیابی پایانی
- سرگرمی

فعالیت های  
پایان هفته

خلاصه ای از تمام فصل های کتاب

# آدینه‌ها با گراد

مهر ماه

هفته

پایه چهارم



این هفته با طعم انار

قرآن : مرور تا صفحه ی ۲ درس اول

هدیه های آسمان : مرور

فارسی : مرور تا صفحه ی ۸

ریاضی : مرور سال قبل

علوم : مرور سال قبل

مطالعات اجتماعی : مرور سال قبل

نام و نام خانوادگی :

دبستان :

کلاس :

## قرآن



فرزند خوبم! قرآن کتاب آسمانی ماست که بر پیامبر اکرم (ص) نازل شده است؛ چه خوب است قرائت درست آن را بیاموزیم و در معنای آن تفکر کنیم.

کلمات قرآنی را بخوانید و دور حروف ناخوانا را خط بکشید.

إِلَىٰ ءَآمَنُوا يُؤَاخِذُ قُرَيْشٍ كَرِيمًا فَتَىٰ

کلمات قرآنی زیر را با توجه به اتصالات بخوانید.

فَأَسْتَقِيمُ

فَاتَّقُوا اللَّهَ

وَالْفَجْرِ

فَاعْلَمَ

 نیاز به تلاش بیشتر

 قابل قبول

 خوب

 خیلی خوب

## هدیه‌ها و آسمان

در کتاب هدیه ی سال گذشته با چندین رهنمود اخلاقی آشنا شده اید. به میزان عمل کردن خود به این تذکرات اخلاقی نمره بدهید.

- به شما سفارش می‌کنم که مراقب رفتار تان باشید. (امام علی (ع))
  - عالی
  - خیلی خوب
  - خوب
  - متوسط
- اشتباه دیگران را ببخشید و از خطاهای آن‌ها بگذرید. (سوره ی نور آیه ۲۲)
  - عالی
  - خیلی خوب
  - خوب
  - متوسط
- اگر چیزی نمی‌دانید از آگاهان پرسید. (سوره ی نحل آیه ۴۳)
  - عالی
  - خیلی خوب
  - خوب
  - متوسط

 نیاز به تلاش بیشتر

 قابل قبول

 خوب

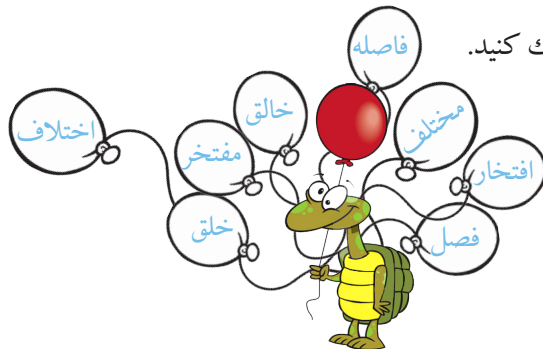
 خیلی خوب

۲

[ انتشارات گراد ]



## فارسی



کلمات هم خانواده را هم رنگ کنید.



نسبت رفتن به خواهم رفت مانند خوردن به ..... است.



بیت زیر از چند جمله تشکیل شده است؟ (مشخص کنید)



«خدا در رنگ و بوی گل نهان است      بهار و باغ و گل از او نشان است»



سه کلمه بنویسید که با «دل» ترکیب شود و کلمه‌ی جدیدی بسازد.



Three empty cloud-shaped boxes for writing words.

با توجه به بیت زیر صفات خداوند را در جاهای خالی قرار دهید.



تو گفتمی مهربان‌تر از خدا نیست      دمی از بندگان خود جدا نیست

Two empty cloud-shaped boxes for writing adjectives.

با توجه به بیت زیر، چگونه می‌توانیم به وجود خدا پی ببریم؟ توضیح دهید.



خدا در رنگ و بوی گل نهان است      بهار و باغ و گل از او نشان است  
خدا در پاکی و نیکی است فرزند      بود در روشنایی‌ها خداوند



## ریاضی

جاهای خالی را کامل کنید.



- ۸ کیلو متر و ۴۵۲ متر می شود ..... متر .
- ۹۲۵۰ برابر است با ..... هزارتایی، ..... صدتایی ..... ده تایی و ..... یکی.
- ۹۳۶۷ گرم می شود ..... کیلو گرم و ..... گرم.
- جرم محمد امین ۳۰ ..... و ۴۶۰ ..... است.

عددی را دو برابر کردیم. سپس حاصل را با ۲۰ جمع کردیم، اگر جواب ۶۸ باشد. آن عدد را پیدا کنید.



حاصل را به دست آورید.



$$\begin{array}{r} 3000 \\ -1234 \\ \hline \end{array}$$

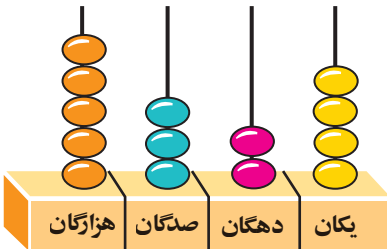
$$\begin{array}{r} 4030 \\ -2107 \\ \hline \end{array}$$

$$\begin{array}{r} 32000 \\ - 50 \\ \hline \end{array}$$

$$37 \overline{) 5}$$

$$4 \times (7+2) = \dots + \dots = \dots$$

$$7 \times 9 = (\dots \times 9) + (6 \times \dots)$$



با توجه به چرتکه به سؤالات پاسخ دهید:



(الف) به رقم بنویسید: .....

(ب) به حروف بنویسید: .....

(ج) ارزش کدام رقم بیشتر است: .....



--	--	--	--	--	--	--	--

$$\frac{3}{7} = \frac{6}{14}$$

با کامل کردن شکل نشان دهید که:



همه‌ی عددهای سه رقمی که رقم یکان آن‌ها ۰، ۶ و ۵ رقم دهگان آن‌ها ۸ و رقم صدگان آن‌ها ۳ و ۹ باشد را بنویسید.

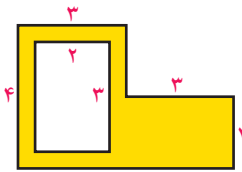


الگوها را کامل کنید.



۵۶ و ۴۹ و ۴۲ و ..... و ..... و ..... و ..... و ..... و ..... و ۱۲ و ۶

مساحت قسمت رنگی را به دست آورید.



نیاز به تلاش بیشتر

قابل قبول

خوب

خیلی خوب

## علوم

حالت هر کدام از موارد زیر را مشخص کنید.



ماده

حالت ماده





## اجتماعی

درس اجتماعی تاکنون شما را با کسب مهارت‌های اولیه، احساس مسئولیت در مقابل دیگران و گروهی زیستن آگاه کرده است.

از ۱۰۰ امتیاز به درس اجتماعی چند امتیاز می‌دهید؟ چرا؟



سال قبل با منابع طبیعی آشنا شدید. چند نمونه را نام برده و ۲ راه حل برای حفظ این منابع بنویسید.




به مهرداد کمک کنید جدول زیر را کامل کنید.



شغل	خیاطی	نانوایی	آموزگار	کشاورز	پلیس
خدماتی					
تولیدی					

شما دوست دارید در آینده چه شغلی داشته باشید؟ این شغل جزء مشاغل خدماتی است یا تولیدی؟



سینا در یک صبح آفتابی به صورت زیر ایستاده است. توضیح دهید سینا چگونه جهت‌های اصلی را پیدا کرده است.



خیلی خوب  خوب  قابل قبول  نیاز به تلاش بیشتر






نام گلی است که با حذف حرف اولش روی آب شناور می شود؟

« ۷ مهر روز آتش نشانی و ایمنی » گرامی باد.



برادر آتش نشان دوست داریم.



شخصها	ارزیابی	خیلی خوب	خوب	متوسط	کم
میزان رضایت مندی از انجام تمرینات					
میزان درک و فهم تمرینات					
مسئولیت پذیری و اجرای زمان بندی برای انجام تکالیف					
داشتن دقت و تمرکز لازم برای انجام تمرینات					

# آدینه‌ها با گراد

مهر ماه

۲

جلسه

پایه چهارم



این هفته با طعم تمشک

قرآن : صفحه‌ی ۳ الی ۸ جلسه‌ی دوم ، درس اول

هدیه‌های آسمان : صفحه‌ی ۸ الی ۱۱ درس ۱ دانه‌ای که نمی‌خواست برود

فارسی : صفحه‌ی ۹ الی ۱۷ بخوان و حفظ کن - خیر داغ

ریاضی : صفحه‌ی ۲ الی ۷ عدد و الگویابی تا آخر عدد نویسی

علوم : صفحه‌ی ۲ الی ۸ زنگ علوم تا مخلوط یکنواخت

مطالعات اجتماعی : صفحه‌ی ۲ الی ۴ درس ۱ همسایه‌ی ما

نام و نام خانوادگی :

دبستان :

کلاس :



## قرآن



هم کلاسی مریم با وجود این که به سن تکلیف رسیده در خواندن نماز کوتاهی می کند. مریم چگونه دوستش را متوجه اشتباهش کند.



در عبارات قرآنی زیر صدای قبل از حروف ناخوانا را با فلش به ساکن یا تشدید بعد از آن وصل کنید.



يَا بَنِيَّ أَقِمِ الصَّلَاةَ وَآمُرُ بِالْمَعْرُوفِ وَانْهَ عَنِ الْمُنْكَرِ.

با توجه به آیات کتاب درسی معنای کلمات را بنویسید.



عالمین: ..... الله: ..... رَبّ: ..... مؤمنین: .....

آیه ی زیر را با رعایت قاعده ی وقف بخوانید و در معنای آن دقت کنید.



يَا بَنِيَّ أَقِمِ الصَّلَاةَ وَآمُرُ بِالْمَعْرُوفِ وَانْهَ عَنِ الْمُنْكَرِ.

ای فرزندم: بر پا دار نماز را و امر کن به کار خوب و نهی کن از کار بد. (آیه ی ۱۷ سوره ی لقمان)

خیلی خوب  خوب  قابل قبول  نیاز به تلاش بیشتر




## هدیه ها کا آسهان

لاک پشت مادر، در ساحل تخم گذاری می کند و به دریا باز می گردد! بر اساس چه قدرتی بدون مراقبت مادر، بیشتر تخم ها به لاک پشت تبدیل می شوند؟





با توجه به درس اول کتاب هدیه، شما دوست دارید دانه ای که از دل خاک بیرون آمد به چه گیاهی تبدیل شود؟ تصویر آن را رسم کنید.



## فارسی

مخالف واژه های زیر را بنویس.

ته  $\neq$ تیره  $\neq$ ضحیم  $\neq$ اوایل  $\neq$ 

نشانه های مناسب هر کلمه را در جای خالی بنویسید.



(ذ - ض - ظ - ز - ص - ط - د - گ - ع - س)

گل... ون

ق... ره

ت... ویر

م... ارع

ن... افت

ب... ضی

ل... ت

هر یک از جملات را به دلخواه کامل کنید.



اگر بهار بودم .....

اگر باران بودم .....

اگر جنگل بودم .....

با دیدن کلمه های زیر به یاد چه واژه های دیگری می افتید؟ آن ها را در نمودار بنویسید.





هر کلمه را به هم معنی خود وصل کنید.



- |                                  |                               |
|----------------------------------|-------------------------------|
| <input type="radio"/> قورباغه    | <input type="radio"/> قشر     |
| <input type="radio"/> آویزان کرد | <input type="radio"/> غوک     |
| <input type="radio"/> شناخت      | <input type="radio"/> آویخت   |
| <input type="radio"/> پوسته      | <input type="radio"/> گلگون   |
| <input type="radio"/> سرخ رنگ    | <input type="radio"/> معرفت   |
| <input type="radio"/> براق کرد   | <input type="radio"/> جلا داد |

- نیاز به تلاش بیشتر  
  قابل قبول  
  خوب  
  خیلی خوب

## ریاضی

الگوهای عددی را کامل کنید.



عدد ۴۸۹۴۵۳ را در نظر بگیرید؟



الف: عدد را به حروف بنویسید.

ب: کوچکترین رقم در چه مرتبه ای است؟

ج: ارزش مکانی کدام رقم بیشتر است؟

عدد داخل جدول را به صورت گسترده بنویسید.



هزار					
صدگان	دهگان	یکان	صدگان	دهگان	یکان
۳	۲	۴	۰	۹	۵



در نوشتن بزرگ‌ترین عدد ۶ رقمی با ارقام ۸ و ۰ و ۵ و ۹ و ۶ و ۲، رقم یکان هزار این عدد چند است؟

کوچک‌ترین عدد پنج رقمی، که دهگان طبقه‌ی هزار آن فرد باشد را به رقم و حروف بنویسید.

رقم: ..... حروف: .....

بین دو عدد زیر چه تفاوتی وجود دارد؟

هزار	
دهگان	یکان
۳	۲

یکی	
دهگان	یکان
۳	۲

خیلی خوب  خوب  قابل قبول  نیاز به تلاش بیشتر

## علوم

سارا لباس‌هایش را شسته است. پیراهن او سفید و شلوارش قهوه‌ای است، پیش‌بینی کنید کدام لباس او زودتر خشک می‌شود دلیل خود را بنویسید. (هر دو لباس از یک جنس است).

جدول را کامل کنید.

انواع مخلوط‌ها		
جامد در جامد	مایع در مایع	جامد در مایع

- نفت در آب
- سبزی خوردن
- آجیل



یکی از مهمترین ویژگی های مواد مخلوط غیر یکنواخت این است که .....

دانیال سرماخورده بود و در خانه استراحت می کرد و متوجه سوختن غذای روی اجاق نشد، علت آن را توضیح دهید. (فرضیه بسازید).



زهرا با سؤال زیر روبه رو شده است. به نظر شما برای یافتن پاسخ آن، چه کارهایی باید انجام داد: قلمه ی گل سرخ در چه خاکی زودتر ریشه می زند؟



نیاز به تلاش بیشتر

قابل قبول

خوب

خیلی خوب

## اجتماعی

به نظر شما چرا انسان ها به صورت گروهی زندگی می کنند؟



سخن پیامبر (ص) در مورد رفتار با همسایگان را بنویسید.

